

A large, bold, red letter 'M' is positioned in the upper left quadrant of the page.

matemàtiques  
bàsiques



Càlcul i problemes de sumes  
sense portar-ne

# matemàtiques b à s i q u e s 1

projecte educatiu el far



Aquest llibre està imprès en paper reciclable, ecològic, lliure de clor i contribueix al desenvolupament sostenible dels boscos.

**Il·lustracions:**

Antonio Perera

**Coordina la col·lecció:**

Equip Queralt

**Impressió:** Orymu

ISBN quadern: 978-84-15960-27-0

Dipòsit legal: B-9912-2014

© Projecte Educatiu El Far

© **Queralt Edicions**

Amb el suport de:



Generalitat de Catalunya  
**Institut Català  
de les Empreses Culturals**

**QUERALT**  
EDICIONS, S.L.

[www.queraltedicions.cat](http://www.queraltedicions.cat)

e-mail: [queralt@queraltedicions.cat](mailto:queralt@queraltedicions.cat)

1 Repassa i completa.



1 aranya

més



1 ós

més



+ 1 aranya




+ 2 óssos



2 aranyes



3 óssos




2 sols

més



2 fulles


més



+ 4 sols



+ 3 fulles



6 =



5 =



2 Repassa, completa i calcula.



1 poma

més



+ 3 pomes




4 llapis


més



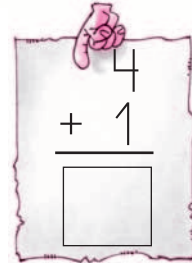
+ 1 llapis



4 =



5 =



3 Calcula.


1	3	1
+ 5	+ 3	+ 6
<input type="text"/>	<input type="text"/>	<input type="text"/>
6	5	5
+ 2	+ 3	+ 2
<input type="text"/>	<input type="text"/>	<input type="text"/>

4 Completa les sèries d'un en un.



5 Pinta.

- De vermell els peixos que van cap a la dreta.
- De verd els peixos que van cap a l'esquerra.



6 Calcula.

$\begin{array}{r} 7 \\ + 1 \\ \hline \square \end{array}$	$\begin{array}{r} 2 \\ + 7 \\ \hline \square \end{array}$	$\begin{array}{r} 6 \\ + 4 \\ \hline \square \end{array}$
$\begin{array}{r} 5 \\ + 6 \\ \hline \square \end{array}$	$\begin{array}{r} 1 \\ + 8 \\ \hline \square \end{array}$	$\begin{array}{r} 7 \\ + 3 \\ \hline \square \end{array}$
$\begin{array}{r} 2 \\ + 8 \\ \hline \square \end{array}$	$\begin{array}{r} 5 \\ + 5 \\ \hline \square \end{array}$	$\begin{array}{r} 7 \\ + 4 \\ \hline \square \end{array}$


7 Escribe amb lletres.

- 1 un
- 2
- 3
- 4
- 5
- 6
- 7
- 8



8 Pinta.

- De blau els nombres més grans de deu.
- De taronja els nombres més petits de deu.



9 Quants anys sumen entre la Núria i en Pere?

Dades

Càlcul

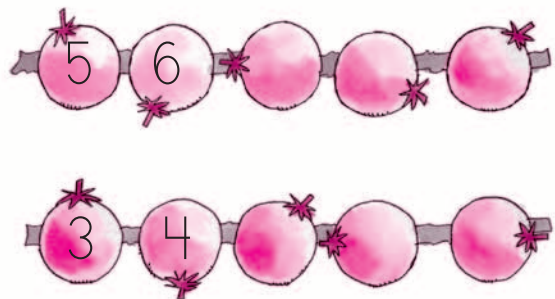


Entre la Núria i en Pere sumen  anys.

10 Calcula.

$4$	$3$	$9$
$+ 8$	$+ 6$	$+ 4$
<input type="text"/>	<input type="text"/>	<input type="text"/>
$5$	$2$	$7$
$+ 9$	$+ 4$	$+ 7$
<input type="text"/>	<input type="text"/>	<input type="text"/>

11 Completa les sèries d'un en un.



12 Pinta.

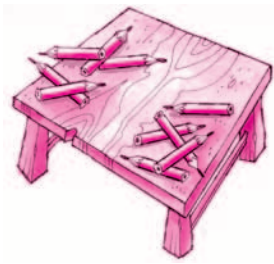
- De marró els cargols que són dins del bassal.
- De groc els cargols que són fora del bassal.



13 Quants llapis hi ha a sobre la taula?

Dades

Càlcul

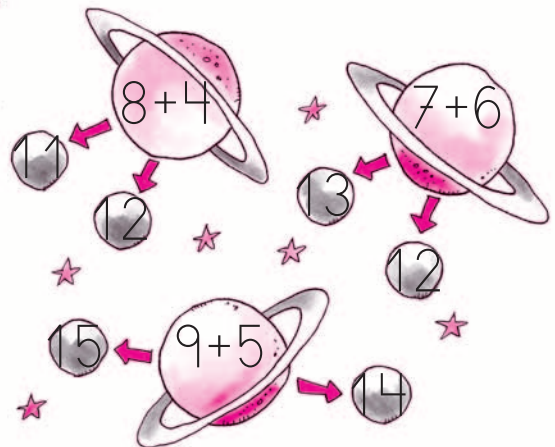


A sobre la taula hi ha  llapis.

14 Calcula.

$\begin{array}{r} 6 \\ + 8 \\ \hline \square \\ 3 \\ + 2 \\ \hline \square \end{array}$	$\begin{array}{r} 5 \\ + 6 \\ \hline \square \\ 5 \\ + 8 \\ \hline \square \end{array}$	$\begin{array}{r} 9 \\ + 2 \\ \hline \square \\ 6 \\ + 4 \\ \hline \square \end{array}$
---	---	---

15 Encercla la resposta correcta.





16 Completa i calcula.

$2 + 3$

$\square + \square$

$\square + \square$



5



$\square$

$\square$

$\square + \square$

$\square + \square$

$\square + \square$



$\square$

$\square$

$\square$

17 Calcula.

$\begin{array}{r} 4 \\ + 6 \\ \hline \square \end{array}$	$\begin{array}{r} 8 \\ + 5 \\ \hline \square \end{array}$	$\begin{array}{r} 3 \\ + 9 \\ \hline \square \end{array}$
$\begin{array}{r} 8 \\ + 3 \\ \hline \square \end{array}$	$\begin{array}{r} 5 \\ + 7 \\ \hline \square \end{array}$	$\begin{array}{r} 9 \\ + 2 \\ \hline \square \end{array}$

18 Completa les sèries d'un en un.

