



matemàtiques bàsiques



Càlcul de diferències sense portar-ne. Problemes de sumes i diferències sense portar-ne

matemàtiques bàsiques 2

projecte educatiu el far



Aquest llibre està imprès en paper reciclable, ecològic, lliure de clor i contribueix al desenvolupament sostenible dels boscos.

Il·lustracions:

Antonio Perera

Coordina la col·lecció:

Equip Queralt

Impressió: Orymu

ISBN quadern: 978-84-15960-28-7

Dipòsit legal: B-9913-2014

© Projecte Educatiu El Far

© **Queralt Edicions**

Amb el suport de:



Generalitat de Catalunya
**Institut Català
de les Empreses Culturals**

QUERALT
EDICIONS, S.L.

www.queraltedicions.cat

e-mail: queralt@queraltedicions.cat

1 Repassa i completa.



2 peixos

menys



1 peix



3 globus

menys




2 globus



1 peix



1 globus



5 peres

menys



3 peres



7 bolets

menys



4 bolets




2 =



3 =



2 Repassa, completa i calcula.



$$4 - 1 = 3$$

Queden pomes.



$$6 - 2 = 4$$

Queden flors.

3 Calcula.

$\begin{array}{r} 4 \\ - 1 \\ \hline \square \end{array}$	$\begin{array}{r} 4 \\ - 2 \\ \hline \square \end{array}$	$\begin{array}{r} 5 \\ - 1 \\ \hline \square \end{array}$
$\begin{array}{r} 6 \\ - 3 \\ \hline \square \end{array}$	$\begin{array}{r} 3 \\ - 2 \\ \hline \square \end{array}$	$\begin{array}{r} 5 \\ - 2 \\ \hline \square \end{array}$

4 Completa les sèries.



5 Calcula.

$5 - 1 = \square$ $7 - 2 = \square$ $9 - 4 = \square$
 $4 - 3 = \square$ $6 - 5 = \square$ $8 - 6 = \square$
 $9 - 7 = \square$ $5 - 4 = \square$ $7 - 3 = \square$

6 Uneix amb fletxes.

5 desenes + 3 unitats	67	vint-i-nou
3 desenes + 5 unitats	53	cinquanta-tres
6 desenes + 7 unitats	29	seixanta-set
2 desenes + 9 unitats	35	trenta-cinc

7 Calcula.

$\begin{array}{r} 6 \\ - 2 \\ \hline \square \end{array}$ $\begin{array}{r} 7 \\ - 1 \\ \hline \square \end{array}$ $\begin{array}{r} 5 \\ - 4 \\ \hline \square \end{array}$
 $\begin{array}{r} 8 \\ - 5 \\ \hline \square \end{array}$ $\begin{array}{r} 7 \\ - 3 \\ \hline \square \end{array}$ $\begin{array}{r} 4 \\ - 4 \\ \hline \square \end{array}$

8 Pinta cada cercle.

- De vermell el nombre més gran.
- De verd el nombre més petit.

Group 1: 12, 18, 19, 21
Group 2: 17, 28, 38, 8
Group 3: 40, 41, 43, 48

9 Si a cada mico li donem un plàtan, quants plàtans quedaran?

Dades

Càlcul



Quedaran plàtans.

10 Escriu amb lletres.

18 _____

53 _____

35 _____

61 _____

40 _____

74 _____

11 Calcula.



$\begin{array}{r} 2 \\ - 2 \\ \hline \end{array}$	$\begin{array}{r} 8 \\ - 1 \\ \hline \end{array}$	$\begin{array}{r} 9 \\ - 3 \\ \hline \end{array}$	$\begin{array}{r} 7 \\ - 4 \\ \hline \end{array}$	$\begin{array}{r} 6 \\ - 5 \\ \hline \end{array}$	$\begin{array}{r} 7 \\ - 6 \\ \hline \end{array}$	$\begin{array}{r} 5 \\ - 5 \\ \hline \end{array}$
<input type="text"/>	<input type="text"/>	<input type="text"/>	<input type="text"/>	<input type="text"/>	<input type="text"/>	<input type="text"/>
$\begin{array}{r} 9 \\ - 4 \\ \hline \end{array}$	$\begin{array}{r} 9 \\ - 5 \\ \hline \end{array}$	$\begin{array}{r} 9 \\ - 6 \\ \hline \end{array}$	$\begin{array}{r} 8 \\ - 7 \\ \hline \end{array}$	$\begin{array}{r} 8 \\ - 5 \\ \hline \end{array}$	$\begin{array}{r} 9 \\ - 1 \\ \hline \end{array}$	$\begin{array}{r} 9 \\ - 2 \\ \hline \end{array}$
<input type="text"/>	<input type="text"/>	<input type="text"/>	<input type="text"/>	<input type="text"/>	<input type="text"/>	<input type="text"/>





12 Encercla els esportistes que tenen la pilota a la seva dreta.



13 Calcula mentalment.

18	-	7	=	
-	-			
16	-	5	=	
=	=			

14	-	5	=	
-	-			
8	-	2	=	
=	=			

14 Calcula.

19	28	25	8	35	9	17
- 15	- 21	- 10	- 0	- 23	- 8	- 16
<input type="text"/>	<input type="text"/>	<input type="text"/>	<input type="text"/>	<input type="text"/>	<input type="text"/>	<input type="text"/>
42	37	9	29	49	33	36
- 11	- 27	- 9	- 22	- 38	- 13	- 24
<input type="text"/>	<input type="text"/>	<input type="text"/>	<input type="text"/>	<input type="text"/>	<input type="text"/>	<input type="text"/>



- 15 Calcula el nombre de pàgines del llibre de la dreta si té 13 pàgines **més que** el de l'esquerra.

Dades

Càlcul



El llibre de la dreta té pàgines.

- 16 Calcula.

48	57	65
$- 26$	$- 34$	$- 53$
<hr/>	<hr/>	<hr/>
<input type="text"/>	<input type="text"/>	<input type="text"/>
46	55	63
$- 20$	$- 5$	$- 40$
<hr/>	<hr/>	<hr/>
<input type="text"/>	<input type="text"/>	<input type="text"/>
51	64	59
$- 31$	$- 50$	$- 18$
<hr/>	<hr/>	<hr/>
<input type="text"/>	<input type="text"/>	<input type="text"/>
74	47	58
$- 41$	$- 30$	$- 45$
<hr/>	<hr/>	<hr/>
<input type="text"/>	<input type="text"/>	<input type="text"/>

- 17 Encercla la resposta correcta.

